

Демонстрационный вариант контрольной работы по географии (8 класс)

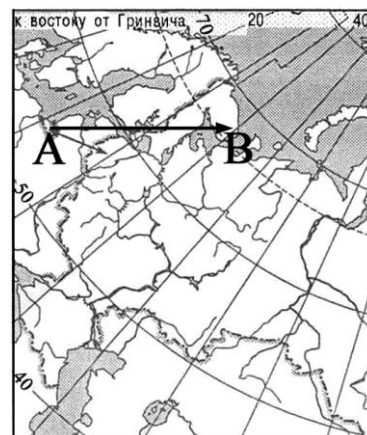
Часть 1

Часть 1 содержит 29 заданий с выбором ответа. К каждому заданию даётся четыре варианта ответа, только один из которых верный.

A1

Какому направлению соответствует направление А – В на карте Европейской части России?

- 1) север
- 2) северо-восток
- 3) восток
- 4) юго-восток



A2

Какие моря относятся к бассейну Атлантического океана?

- 1) Балтийское и Черное
- 2) Белое и Берингово
- 3) Баренцево и Аравийское
- 4) Тасманово и Красное

A3

Подзолистые почвы образуются в ...

- 1) тайге
- 2) степях
- 3) полупустынях
- 4) тундре

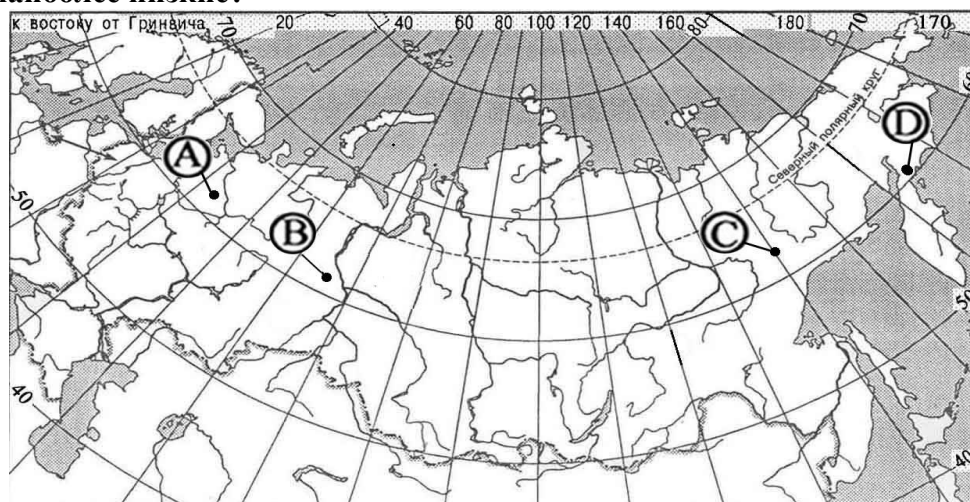
A4

Автором классического труда «Описание земли Камчатки» является ...

- 1) А.И. Воейков
- 2) В.В. Докучаев
- 3) С.П. Крашенинников
- 4) М.В. Ломоносов

A5

В каком из пунктов, обозначенных буквами на карте России, средние температуры января наиболее низкие?



- 1) А 2) В 3) С 4) D

A6

В каком из перечисленных регионов России зимы наиболее холодные?

- 1) Калининградская область
- 2) Якутия
- 3) Астраханская область
- 4) Татарстан

A7

Неблагоприятное воздействие на природу оказывает ...

- 1) проведение снегозадержания на полях
- 2) создание лесополос в степной зоне
- 3) осушение болот в верховьях рек
- 4) террасирование склонов

A8

Прочитайте текст и ответьте на вопрос.

Учащиеся нескольких школ, находящихся в разных городах России, обмениваются результатами наблюдений, которые проводятся ими на географических площадках. 21 марта в полдень по солнечному времени каждого из городов (во всех городах действует московское время) они определили высоту Солнца над горизонтом и зафиксировали температуру воздуха. Результаты их наблюдений приведены в следующей таблице.

Пункт наблюдения	Координаты пункта наблюдения	Высота Солнца над горизонтом	Температура воздуха, °С	Время наблюдения, МСК
Санкт-Петербург	60° с.ш. 30° в.д.	30°	+4 °С	13 ч.
Москва	56° с.ш. 37° в.д.	34°	+1 °С	13 ч. 28 м.
Липецк	53° с.ш. 40° в.д.	37°	+6 °С	13 ч. 40 м.
Астрахань	46° с.ш. 48° в.д.	44°	+8 °С	14 ч.

Какую из изученных на уроках географии закономерностей подтверждают собранные данные?

- 1) Континентальность климата увеличивается в направлении с северо-запада на юго-восток.
- 2) Температура воздуха изменяется в течение суток
- 3) Высота Солнца изменяется в зависимости от географической широты местности.
- 4) Высота Солнца изменяется в течение дня в зависимости от времени наблюдения.

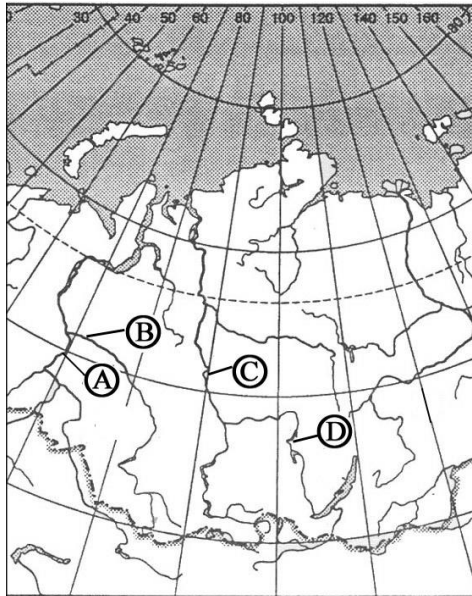
A9

На какой из перечисленных территорий России наиболее вероятны землетрясения?

- 1) Кольский полуостров
- 2) Острова Новая Земля
- 3) Полуостров Таймыр
- 4) Остров Сахалин

A10

Какой буквой на фрагменте карты России обозначена река Енисей?



- 1) A 2) B 3) C 4) D

A11

Для какого типа умеренного климата характерны самые низкие зимние температуры?

- 1) Морского
- 2) Умеренно-континентального
- 3) Резко континентального
- 4) Муссонного

A12

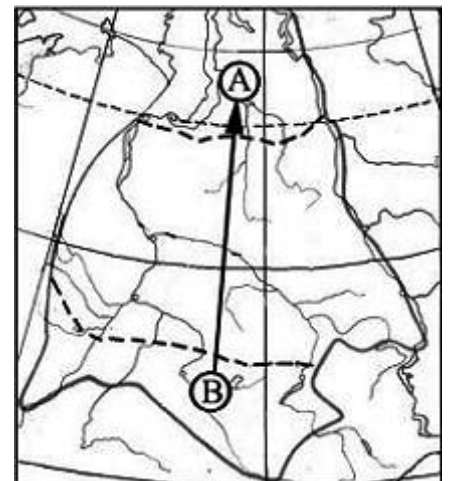
Какое утверждение о географическом положении России является верным?

- 1) На юго-западе Россия граничит с Украиной.
- 2) Крайняя северная точка страны находится на полуострове Ямал.
- 3) Площадь территории страны превышает 20 млн кв. км.
- 4) Россия омывается морями четырех океанов.

A13

Из какой природной зоны Западной Сибири в какую переместится путешественник, совершив перелёт по маршруту В – А, показанному на карте?

- 1) Из зоны степей в зону арктических пустынь
- 2) Из зоны степей в зону тундры
- 3) Из зоны тундры в зону степей
- 4) Из зоны пустынь и полупустынь в зону тундры



A14 Огромные валуны, встречающиеся на полях Псковской области, попали туда в результате деятельности ...

- 1) ледника
- 2) ветра
- 3) моря
- 4) текучих вод

A15 Какие горы в России являются линией климатического раздела между областями умеренно-континентального и континентального типов климата умеренного пояса?

- 1) Кавказские
- 2) Уральские
- 3) Алтай
- 4) Саяны

A16 Примером исчерпаемых невозобновимых природных ресурсов служит ...

- 1) пресная вода
- 2) почва
- 3) железная руда
- 4) солнечная энергия

A17 Основные запасы пресной воды на Земле сосредоточены в ...

- 1) озёрах
- 2) реках
- 3) ледниках
- 4) подземных водах

A18 Крайняя северная материковая точка России:

- 1) мыс Дежнёва
- 2) мыс Флигели
- 3) мыс Игольный
- 4) мыс Челюскин

A19 Самое большое и глубокое море у берегов России:

- 1) Охотское
- 2) Берингово
- 3) Баренцево
- 4) Японское

A20

Самый большой остров России:

- 1) Новая Земля
- 2) Сахалин
- 3) Врангеля
- 4) Колгуев

A21

Высшая точка России – это гора:

- 1) Ключевская Сопка
- 2) Казбек
- 3) Эльбрус
- 4) Белуха

A22

На климат России наибольшее влияние оказывает океан:

- 1) Тихий
- 2) Атлантический
- 3) Северный Ледовитый
- 4) Индийский

A23

Самое холодное место в России:

- 1) Оймякон
- 2) Остров Рудольфа
- 3) Таймыр
- 4) Кольский полуостров

A24

Горной рекой является:

- 1) Урал
- 2) Печора
- 3) Ока
- 4) Терек

A25

Пограничной рекой является:

- 1) Волга
- 2) Енисей
- 3) Амур
- 4) Кама

A26

Самые высокие горы России:

- 1) Урал
- 2) Саяны
- 3) Кавказ
- 4) Хибины

A27

Самое глубокое озеро в России:

- 1) Каспийское
- 2) Ладожское
- 3) Ханка
- 4) Байкал

A28

Крайняя южная точка России:

- 1) мыс Флигели
- 2) о. Ратманова
- 3) г. Базардюзю
- 4) Коса в Гданьском заливе

A 29

Высшей точкой Уральских гор является гора:

- 1) Денежкин Камень
- 2) Народная
- 3) Пайер
- 4) Ишерим

Часть 2

Ответом к заданиям этой части (В1 – В6) является последовательность букв, число или слово. Впишите ответы в таблицу в виде последовательности букв.

В1

Установите соответствие между каждым из природных ресурсов и видом, к которому он относится.

ПРИРОДНЫЕ РЕСУРСЫ

- 1) энергия Солнца
- 2) медные руды
- 3) каменный уголь
- 4) лесные

ВИДЫ ПРИРОДНЫХ РЕСУРСОВ

- А) неисчерпаемые
- Б) исчерпаемые возобновимые
- В) исчерпаемые невозобновимые

Запишите в таблицу буквы, соответствующие выбранным ответам.

1	2	3	4

В2 Владимир из Москвы (2-й часовой пояс) хочет поздравить Сергея, находящегося в Иркутске (VII часовой пояс), с наступлением Нового Года ровно в полночь по времени Иркутска. Определите, во сколько часов по московскому времени должен позвонить Владимир. Ответ запишите цифрами.

Ответ _____ ч.

В3 Установите соответствие между территорией Земли и исследователями и путешественниками, которые её исследовали.

- | ТЕРРИТОРИЯ | ПУТЕШЕСТВЕННИКИ |
|----------------------|--|
| 1) Море Лаптевых | А) В. Беринг и А. Чириков |
| 2) Алеутские острова | Б) братья Лаптевы |
| 3) Центральная Азия | В) Р. Амундсен и Р. Скотт |
| | Г) П.П. Семенов-Тянь-Шанский и Н.М. Пржевальский |

Запишите в таблицу буквы, соответствующие выбранным ответам.

1	2	3

В4 Сколько времени (с учетом декретного) будет в Мурманске (2-ой часовой пояс), когда в Лондоне 12 часов дня? Ответ запишите цифрами.

Ответ: _____ ч.

В5 Атмосферный вихрь с высоким давлением в центре? Ответ запишите.

Ответ: _____ .

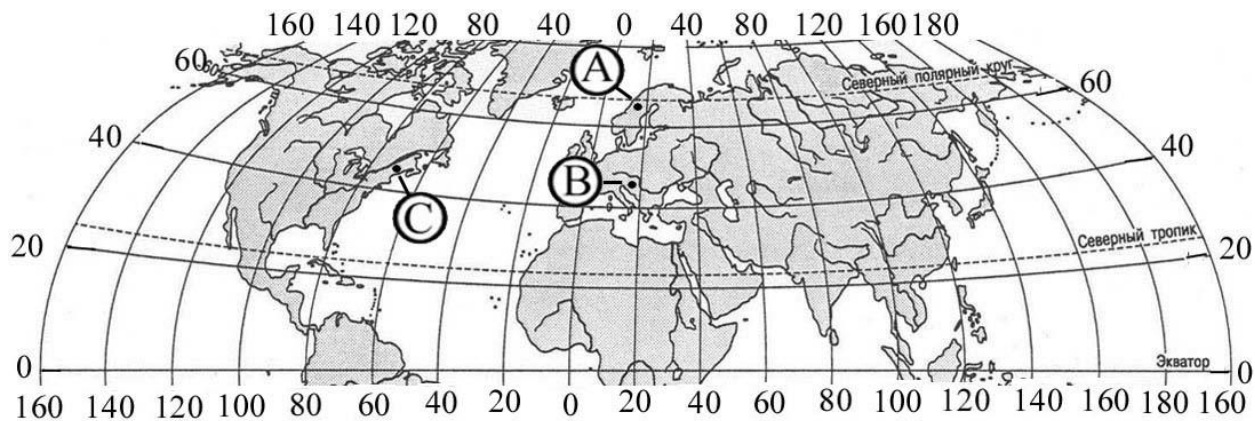
В6 Какие воздушные массы содержат больше всего влаги? Ответ запишите.

Ответ: _____ .

Часть 3

Задания части 3 требуют развёрнутого ответа. Запишите сначала номер задания, а затем полный ответ.

С1 Определите, в каком из обозначенных буквами на карте Северного полушария пунктов 20 декабря Солнце раньше (по времени Гринвичского меридиана) поднимется над горизонтом. Запишите обоснование вашего ответа.



C2

Почему природа зоны степей на Восточно-Европейской равнине изменена человеком больше, чем природа зоны тундр? Укажите не менее двух причин.

*Ответы к демонстрационному варианту контрольной работы по географии
(8 класс)*

Часть 1

№ задания	Ответ	№ задания	Ответ
A1	3	A17	3
A2	1	A18	4
A3	1	A19	2
A4	3	A20	2
A5	3	A21	3
A6	2	A22	2
A7	3	A23	1
A8	3	A24	4
A9	4	A25	3
A10	3	A26	3
A11	3	A27	4
A12	1	A28	3
A13	2	A29	2
A14	1		
A15	2		
A16	3		

Часть 2

B1	АВВБ
B2	19 часов
B3	БАГ
B4	15 часов
B5	антициклон
B6	морские

С1

Часть 3

Элементы содержания верного ответа (допускаются иные формулировки ответа, не искажающие его смысла)	Баллы
В обосновании говорится, что: 1) Раньше всего Солнце поднимется над горизонтом в пункте В 2) пункт В расположен южнее пункта А 3) пункт В расположен восточнее пункта С	
Указания к оцениванию	
Ответ включает все три названных выше элемента	2
Ответ включает два (1-й и 2-й или 1-й и 3-й) из названных выше элементов	1
Ответ включает один (любой) из названных выше элементов	0
ИЛИ все вышеперечисленные элементы отсутствуют	
<i>Максимальный балл</i>	2

С2

Почему природа зоны степей на Восточно-Европейской равнине изменена человеком больше, чем природа зоны тундр? Укажите не менее двух причин.

Элементы содержания верного ответа (допускаются иные формулировки ответа, не искажающие его смысла)	Баллы
1) в зоне степей больше развито земледелие	
2) территория зоны степей была заселена значительно раньше	
ИЛИ Территория зоны степей значительно гуще заселена и освоена	
Указания к оцениванию	
Ответ включает оба названных выше элемента	2
Ответ включает один (любой) из названных выше элементов	1
Все вышеперечисленные элементы отсутствуют	0
<i>Максимальный балл</i>	2