

ЧАСТЬ А

Часть А содержит 18 заданий с выбором ответа. К каждому заданию даётся четыре варианта ответа, только один из которых верный.

А-1. Какой материк пересекается экватором в северной части?

- 1) Северная Америка
- 2) Южная Америка
- 3) Австралия
- 4) Евразия

А-2. Какой из перечисленных путешественников исследовал внутренние районы Африки?

- 1) Д. Ливингстон
- 2) Дж. Кук
- 3) А. Веспуччи
- 4) А. Макензи

А-3. Какой материк Земли самый сухой?

- 1) Евразия
- 2) Австралия
- 3) Африка
- 4) Южная Америка

А-4. Относительно устойчивые и выровненные участки земной коры, лежащие в основании современных материков, - это:

- 1) материковые отмели
- 2) платформы
- 3) сейсмические пояса
- 4) острова

А-5. Какая из перечисленных территорий расположена в пределах сейсмического пояса?

- 1) остров Сахалин
- 2) острова Новая Земля
- 3) полуостров Таймыр
- 4) полуостров Ямал

А-6. Какая из перечисленных горных систем самая протяженная?

- 1) Кордильеры
- 2) Урал
- 3) Альпы
- 4) Аппалачи

А-7. Какой буквой на карте обозначен вулкан Килиманджаро?



- 1) А 2) Б 3) В 4) Г

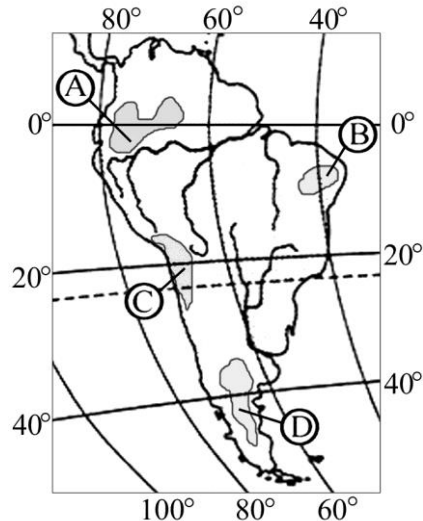
А-8. Для какого типа климата умеренного климатического пояса характерны самые низкие

зимние температуры?

- 1) Морского
- 2) Умеренно - континентального
- 3) Резко - континентального
- 4) Муссонного

А-9. На какой из территорий, обозначенных буквами на карте Южной Америки, среднегодовое количество атмосферных осадков наибольшее?

- 1) А
- 2) Б
- 3) В
- 4) Г



А-10. Какое из перечисленных морских течений действует в Тихом океане?

- 1) Гольфстрим
- 2) Бразильское
- 3) Гвинейское
- 4) Куроисио.

А-11. В умеренном поясе к югу от лесной зоны расположена зона:

- 1) тайги
- 2) лесостепей и степей
- 3) лесотундр и тундр
- 4) высотной поясности

А-12. Соболь - животное, обитающее в природной зоне:

- 1) степей
- 2) тайги
- 3) пустынь
- 4) тундры

А-13. Укажите ошибку в сочетании «материк - животное».

- 1) Африка — гепард
- 2) Австралия — вомбат
- 3) Южная Америка - пума
- 4) Евразия — скунс

А-14. Укажите правильный вариант ответа. В Африке — вадии, а в Австралии:

- 1) пуны
- 2) крики
- 3) самум
- 4) коала

А-15. Какие координаты имеет самая восточная точка Африки?

- 1) 16° ю.ш.; 3° в.д.
- 2) 10° с.ш.; 51° в.д.
- 3) 51° с.ш.; 11° в.д.
- 4) 16° с.ш.; 3° з.д.

А-16. По карте плотности населения определите, какая из названных территорий заселена больше?

- 1) Европа;
- 2) Южная Америка;
- 3) Австралия;
- 4) Север Африки.

А-17. Родиной какого культурного растения является Африка?

- 1) Кофе
- 2) Каучуконосов
- 3) Какао
- 4) Чая

А-18. Одним из основных современных видов хозяйственной деятельности человека в тундре является:

- 1) заготовка леса
- 2) добыча полезных ископаемых
- 3) разведение скота
- 4) выращивание зерна

ЧАСТЬ В

Часть В содержит 4 задания. Задания В-1, В-2 содержат по три правильных ответа. Ответом к заданиям В-3 и В-4 является слово, последовательность букв или цифр.

В-1. Определите, о какой природной зоне идет речь в тексте:

«Характерны желтоземные и красноземные почвы. Субтропические вечнозеленые леса и кустарники. Характерные представители животного мира: гепарды, зебры, носороги, слоны».

В-2. Установите соответствие между строением земной коры и рельефом.

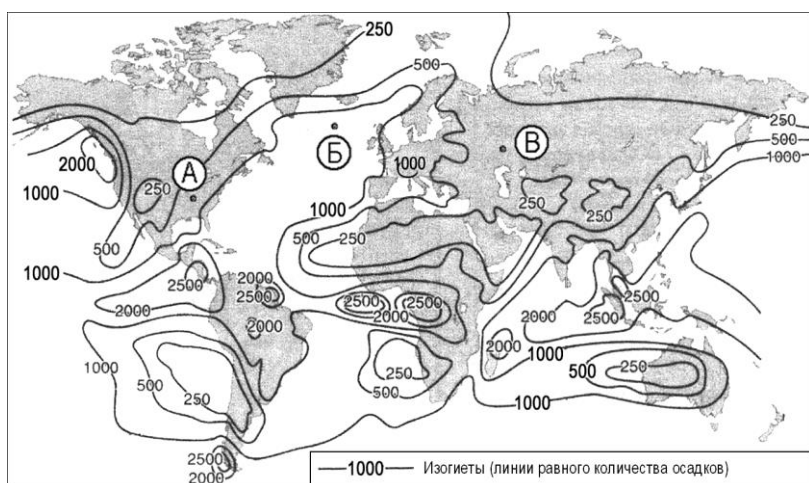
ГОРЫ

ОБЛАСТЬ СКЛАДЧАТОСТИ

- 1) Гималаи
- 2) Урал
- 3) Верхоянский хребет

- А. Мезозойская
- Б. Кайнозойская
- В. Герцинская

В-3. С помощью карты сравните среднегодовое количество осадков в точках, обозначенных на карте буквами А, Б, В. Расположите эти точки в порядке увеличения количества осадков, выпадающих в них.



Запишите в таблицу получившуюся последовательность букв.

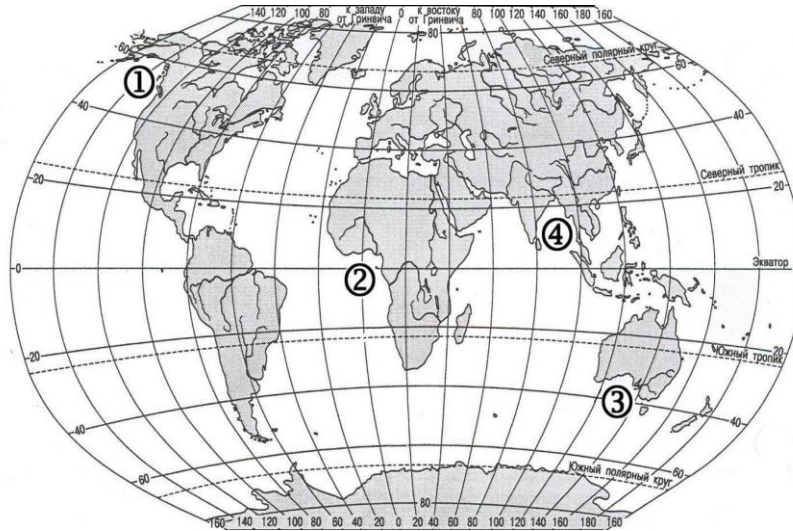
- А) А
- Б) Б

В) В

Ответ:

--	--	--

В-4. Установите соответствие между заливом и его расположением на карте, обозначенным цифрой.



ЗАЛИВ

РАСПОЛОЖЕНИЕ НА КАРТЕ

- А) Гвинейский
- Б) Бенгальский
- В) Аляска

- 1) 1
- 2) 2
- 3) 3
- 4) 4

Запишите в таблицу цифры, соответствующие выбранным ответам.

Ответ:

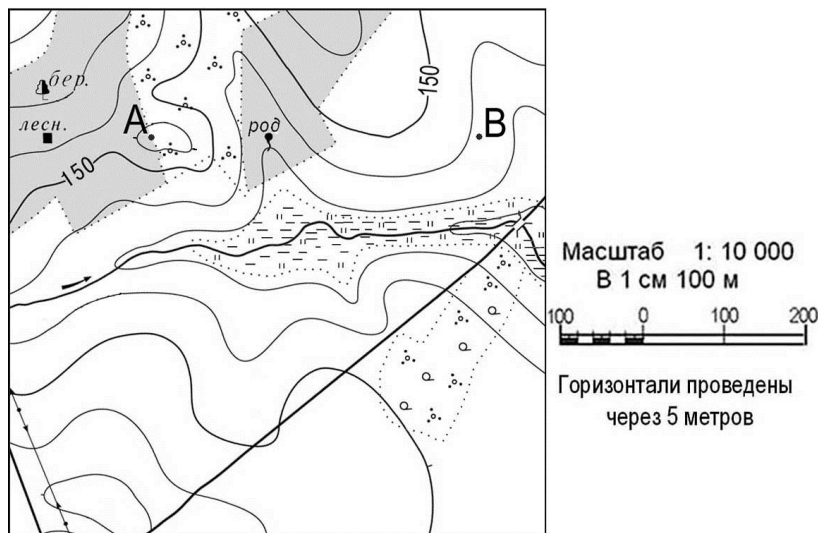
А	Б	В

ЧАСТЬ С

Задания С требуют развёрнутого ответа. Запишите сначала номер задания, а затем полный ответ.

С-1. Определите по карте расстояние на местности по прямой от родника до дома лесника. Полученный результат округлите до десятков метров. Ответ запишите цифрами.

Ответ: _____ м.



С-2. Определите страну по ее краткому описанию.

Это – одна из крупных по площади стран мира, имеет выход к трем океанам. На её территории находится одна из крайних точек материка, на котором она расположена. По суше граничит лишь с одной страной. Большая часть ее населения расположена вдоль южной границы. Страна богата разнообразными полезными ископаемыми, а также лесными, земельными, водными ресурсами.

Ответы к демонстрационному варианту итоговой контрольной работы по географии (7 класс)

ЧАСТЬ А

Номер задания	А 1	А 2	А 3	А 4	А 5	А 6	А 7	А 8	А 9	А1 0	А1 1	А1 2	А1 3	А1 4	А1 5	А1 6	А1 7	А1 8
	2	1	2	2	1	1	4	3	1	1	2	2	4	2	2	1	1	2

ЧАСТЬ В

Номер задания	В1	В2	В3	В4
	Саванны и редколесья	1-Б 2-В 3-А	ВАБ	А-2 Б-4 В-1

ЧАСТЬ С

С1 - 270 м

С2 - Канада

Критерии оценивания

За правильный ответ на задания: части А — 1 балл; части В и С—2 балла.

Максимальный первичный балл - 30 баллов.

Оценка по пятибалльной шкале	«2»	«3»	«4»	«5»
Общий балл	0- 14	15-20	21-26	27-30