

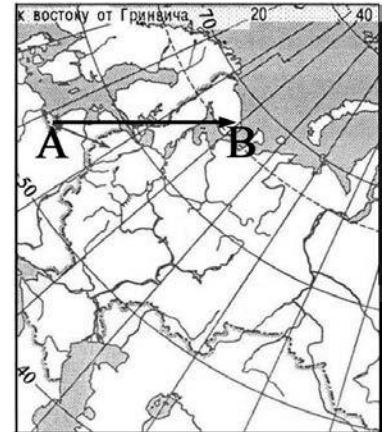
Контрольно- измерительный материал по географии за курс 8 класса

Вариант №1.

A1

Какому направлению соответствует направление А – В на карте Европейской части России?

- 1) север
- 2) северо-восток
- 3) восток
- 4) юго-восток



A2

Какие моря относятся к бассейну Атлантического океана?

- 1) Балтийское и Черное
- 2) Белое и Берингово
- 3) Баренцево и Аравийское
- 4) Тасманово и Красное

A3

Подзолистые почвы образуются в

- 1) тайге
- 2) степях
- 3) полупустынях
- 4) тундре

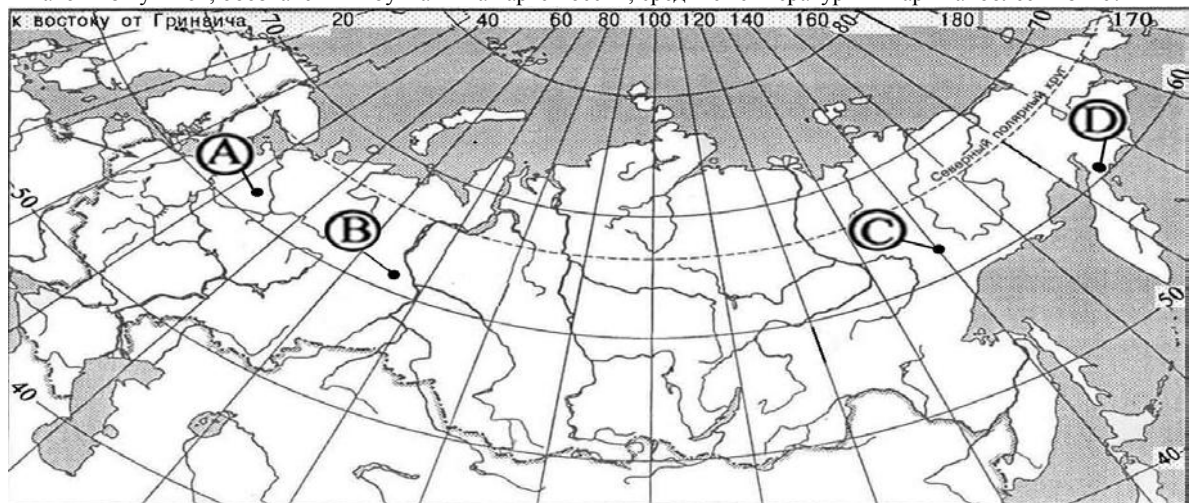
A4

Автором классического труда «Описание земли Камчатки» является

- 1) А.И. Воейков
- 2) В.В. Докучаев
- 3) С.П. Крашенинников
- 4) М.В. Ломоносов

A5

В каком из пунктов, обозначенных буквами на карте России, средние температуры января наиболее низкие?



- 1) А
- 2) В
- 3) С
- 4) D

A6

В каком из перечисленных регионов России зимы наиболее холодные?

- 1) Калининградская область
- 2) Якутия
- 3) Астраханская область
- 4) Татарстан

A7

Неблагоприятное воздействие на природу оказывает

- 1) проведение снегозадержания на полях
- 2) создание лесополос в степной зоне
- 3) осушение болот в верховьях рек
- 4) террасирование склонов

A8

Прочитайте текст и ответьте на вопрос.

Учащиеся нескольких школ, находящихся в разных городах России, обмениваются результатами наблюдений, которые проводятся ими на географических площадках. 21 марта в полдень по солнечному времени каждого из городов (во всех городах действует московское время) они определили высоту Солнца над горизонтом и зафиксировали температуру воздуха. Результаты их наблюдений приведены в следующей таблице.

Пункт наблюдения	Координаты пункта наблюдения	Высота Солнца над горизонтом	Температура воздуха, °С	Время наблюдения, МСК
Санкт-Петербург	60° с.ш. 30° в.д.	30°	+4 °С	13 ч.
Москва	56° с.ш. 37° в.д.	34°	+1 °С	13 ч. 28 м.
Липецк	53° с.ш. 40° в.д.	37°	+6 °С	13 ч. 40 м.
Астрахань	46° с.ш. 48° в.д.	44°	+8 °С	14 ч.

Какую из изученных на уроках географии закономерностей подтверждают собранные данные?

- 1) Континентальность климата увеличивается в направлении с северо-запада на юго-восток.
- 2) Температура воздуха изменяется в течение суток
- 3) Высота Солнца изменяется в зависимости от географической широты местности.
- 4) Высота Солнца изменяется в течение дня в зависимости от времени наблюдения.

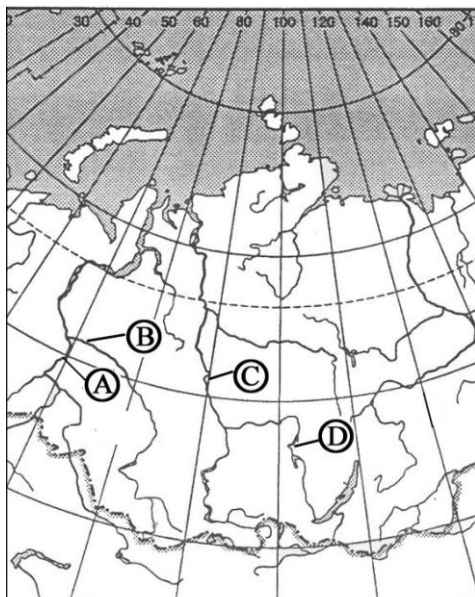
A9

На какой из перечисленных территорий России наиболее вероятны землетрясения?

- 1) Кольский полуостров
- 2) острова Новая Земля
- 3) полуостров Таймыр
- 4) остров Сахалин

A10

Какой буквой на фрагменте карты России обозначена река Енисей?



- 1) A
- 2) B
- 3) C
- 4) D

A11

Для какого типа умеренного климата характерны самые низкие зимние температуры?

- 1) морского
- 2) умеренно континентального
- 3) резко континентального
- 4) муссонного

A12

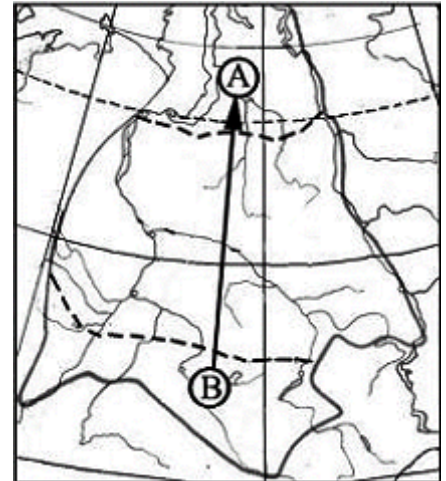
Какое утверждение о географическом положении России является верным?

- 1) На юго-западе Россия граничит с Украиной.
- 2) Крайняя северная точка страны находится на полуострове Ямал.
- 3) Площадь территории страны превышает 20 млн кв. км.
- 4) Россия омывается морями четырех океанов.

A13

Из какой природной зоны Западной Сибири в какую переместится путешественник, совершив перелёт по маршруту В – А, показанному на карте?

- 1) из зоны степей в зону арктических пустынь
- 2) из зоны степей в зону тундры
- 3) из зоны тундры в зону степей
- 4) из зоны пустынь и полупустынь в зону тундры

**A14**

Огромные валуны, встречающиеся на полях Псковской области, попали туда в результате деятельности

- 1) ледника
- 2) ветра
- 3) моря
- 4) текучих вод

A15

Какие горы в России являются линией климатического раздела между областями умеренно-континентального и континентального типов климата умеренного пояса?

- 1) Кавказские
- 2) Уральские
- 3) Алтай
- 4) Саяны

A16

Примером исчерпаемых невозобновимых природных ресурсов служит

- 1) пресная вода
- 2) почва
- 3) железная руда
- 4) солнечная энергия

A17

Основные запасы пресной воды на Земле сосредоточены в

- 1) озёрах
- 2) реках
- 3) ледниках
- 4) подземных водах

A18

Крайняя северная материковая точка России:

- 1) мыс Дежнёва
- 2) мыс Флигели
- 3) мыс Игольный
- 4) мыс Челюскин

A19

Самое большое и глубокое море у берегов России:

- 1) Охотское
- 2) Берингово
- 3) Баренцево
- 4) Японское

A20

Самый большой остров России:

- 1) Новая Земля
- 2) Сахалин
- 3) Врангеля
- 4) Колгуев

A21

Высшая точка России – это гора:

- 1) Ключевская Сопка
- 2) Казбек
- 3) Эльбрус
- 4) Белуха

A22

На климат России наибольшее влияние оказывает океан:

- 1) Тихий
- 2) Атлантический
- 3) Северный Ледовитый
- 4) Индийский

A23

Самое холодное место в России:

- 1) Оймякон
- 2) Остров Рудольфа
- 3) Таймыр
- 4) Кольский полуостров

A24

Горной рекой является:

- 1) Урал
- 2) Печора
- 3) Ока
- 4) Терек

A25

Пограничной рекой является:

- 1) Волга
- 2) Енисей
- 3) Амур
- 4) Кама

A26

Высшей точкой Ставропольской возвышенности является гора:

- 1) Недреманная
- 2) Стрижамент
- 3) Эльбрус
- 4) Машук

A27

Самые высокие горы России:

- 1) Урал
- 2) Саяны
- 3) Кавказ
- 4) Хибины

A28

Самое глубокое озеро в России:

- 1) Каспийское
- 2) Ладожское
- 3) Ханка
- 4) Байкал

A29

Крайняя южная точка России:

- 1) мыс Флигели
- 2) о. Ратманова
- 3) г. Базардюзю
- 4) Коса в Гданьском заливе

A 30

Высшей точкой Уральских гор является гора:

- 1) Денежкин Камень
- 2) Народная
- 3) Пайер
- 4) Ишерим

1 вариант

№ задания	Ответ	№ задания	Ответ
A1	3	A17	3
A2	1	A18	4
A3	1	A19	2
A4	3	A20	2
A5	3	A21	3
A6	2	A22	2
A7	3	A23	1
A8	3	A24	4
A9	4	A25	3
A10	3	A26	2
A11	3	A27	3
A12	1	A28	4
A13	2	A29	3
A14	1	A30	2
A15	2		
A16	3		