

Контрольно- измерительный материал по географии

за курс 7 класса

ЧАСТЬ А

Часть А содержит 18 заданий с выбором ответа. К каждому заданию даётся четыре варианта ответа, только один из которых верный. При выполнении заданий этой части в бланке ответов № 1 под номером выполняемого вами задания (А1–А18) поставьте знак «х» в клеточке, номер которой соответствует номеру выбранного вами ответа.

А-1. Какой материк пересекается экватором в северной части?

- 1) Северная Америка
- 2) Южная Америка
- 3) Австралия
- 4) Евразия

А-2. Какой из перечисленных путешественников исследовал внутренние районы Африки?

- 1) Д. Ливингстон
- 2) Дж. Кук
- 3) А. Веспуччи
- 4) А. Макензи

А-3. Какой материк Земли самый сухой?

- 1) Евразия
- 2) Австралия
- 3) Африка
- 4) Южная Америка

А-4. Относительно устойчивые и выровненные участки земной коры, лежащие в основании современных материков, - это:

- 1) материковые отмели
- 2) платформы
- 3) сейсмические пояса
- 4) острова

А-5. Какая из перечисленных территорий расположена в пределах сейсмического пояса?

- 1) остров Сахалин
- 2) острова Новая Земля
- 3) полуостров Таймыр
- 4) полуостров Ямал

А-6. Какая из перечисленных горных систем самая протяженная?

- 1) Кордильеры
- 2) Урал
- 3) Альпы
- 4) Аппалачи

А-7. Какой буквой на карте обозначен вулкан Килиманджаро?



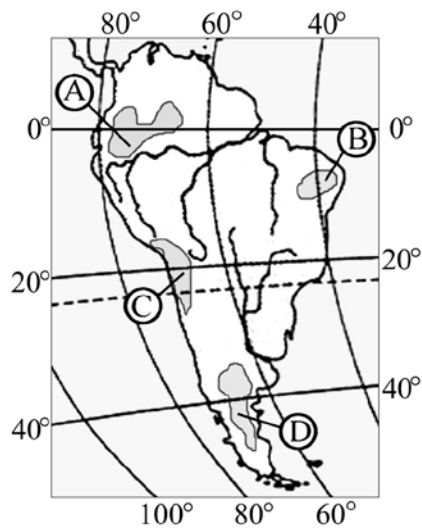
- 1) А 2) Б 3) В 4) Г

А-8. Для какого типа климата умеренного климатического пояса характерны самые низкие зимние температуры?

- 1 морского
- 2 умеренно- континентального
- 3 резко- континентального
- 4 муссонного

А-9. На какой из территорий, обозначенных буквами на карте Южной Америки, среднегодовое количество атмосферных осадков наибольшее?

- 1) А 2) Б 3) В 4) Г



A-10. Какое из перечисленных морских течений действует в Тихом океане?

- 1) Гольфстрим 2) Бразильское 3) Гвинейское 4) Куроисио.

A-11. В умеренном поясе к югу от лесной зоны расположена зона:

- 1) тайги
2) лесостепей и степей
3) лесотундр и тундр
4) высотной поясности

A-12. Соболь - животное, обитающее в природной зоне:

- 1) степей
2) тайги
3) пустынь
4) тундры

A-13. Укажите ошибку в сочетании «материк - животное».

- 1) Африка — гепард
2) Австралия — вомбат
3) Южная Америка - пума
4) Евразия — скунс

A-14. Укажите правильный вариант ответа. В Африке — вади, а в Австралии:

- 1) пуны
2) крики
3) самум
4) коала

A-15.. Какие координаты имеет самая восточная точка Африки?

- 1) 16° ю.ш.; 3° в.д.
2) 10° с.ш.; 51° в.д.

3) 51° с.ш.; 11° в.д.

4) 16° с.ш.; 3° з.д.

А-16. По карте плотности населения определите, какая из названных территорий заселена больше?

- 1) Европа;
- 2) Южная Америка;
- 3) Австралия;
- 4) север Африки.

А-17. Родиной какого культурного растения является Африка?

- 1) кофе
- 2) каучуконосов
- 3) какао
- 4) чая

А-18. Одним из основных современных видов хозяйственной деятельности человека в тундре является:

- 1) заготовка леса
- 2) добыча полезных ископаемых
- 3) разведение скота
- 4) выращивание зерна

ЧАСТЬ В

Часть В содержит 4 задания. Задания В-1, В-2 содержат по три правильных ответа. Ответом к заданиям этой части (В-3, В-14) является слово, последовательность букв или цифр. Впишите ответы сначала в текст работы, а затем перенесите их в бланк ответов № 1 справа от номера соответствующего задания, начиная с первой клеточки, без пробелов, запятых и других дополнительных символов. Каждую цифру или букву пишите в отдельной клеточке в соответствии с приведёнными в бланке образцами. Единицы измерения писать не нужно.

В-1. Определите, о какой природной зоне говорится:

«Характерны желтоземные и красноземные почвы. Субтропические вечнозеленые леса и кустарники. Характерные представители животного мира: гепарды, зебры, носороги, слоны».

В-2. Установите соответствие между строением земной коры и рельефом.

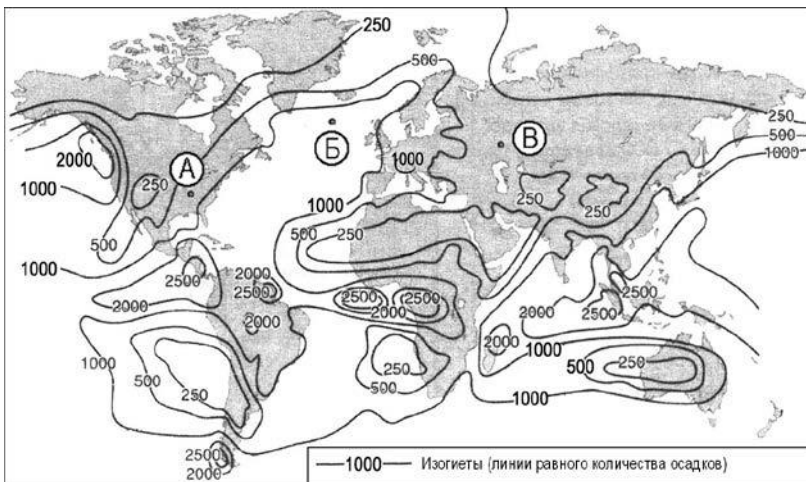
ГОРЫ

ВОЗРАСТ СКЛАДЧАТОСТИ

- 1) Гималаи
- 2) Урал
- 3) Верхоянский хребет

- А. Мезозойский
- Б. Кайнозойский
- В. Герцинский

В-3. С помощью карты сравните среднегодовое количество осадков в точках, обозначенных на карте буквами А, Б, В. Расположите эти точки в порядке увеличения количества осадков, выпадающих в них.



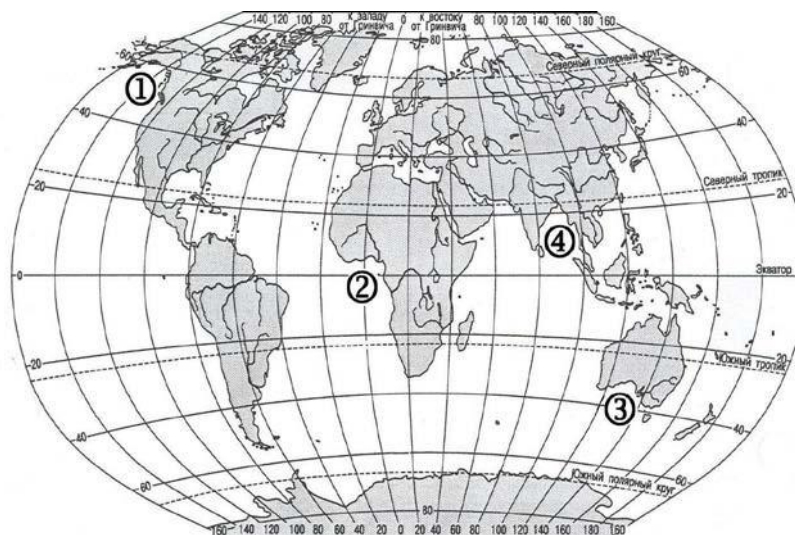
Запишите в таблицу получившуюся последовательность букв.

- А) А
- Б) Б
- В) В

Ответ:

--	--	--

В-4. Установите соответствие между заливом и его расположением на карте, обозначенным цифрой.



- ЗАЛИВ**
- А) Гвинейский
 - Б) Бенгальский
 - В) Аляска

- РАСПОЛОЖЕНИЕ НА КАРТЕ**
- 1) 1
 - 2) 2
 - 3) 3
 - 4) 4

Запишите в таблицу цифры, соответствующие выбранным ответам.

Ответ:

А	Б	В

ЗАЛИВ

РАСПОЛОЖЕНИЕ НА КАРТЕ

А) Гвинейский

1) 1

Б) Бенгальский

2) 2

В) Большой Австралийский

3) 3

4) 4

Запишите в таблицу цифры, соответствующие выбранным ответам.

Ответ:

А	Б	В

Ответы итоговой контрольной работы по географии для 7 класса (тесты)

ЧАСТЬ А

Номер задания	А1	А2	А3	А4	А5	А6	А7	А8	А9	А10	А11	А12	А13	А14	А15	А16	А17	А18
	2	1	2	2	1	1	4	3	1	1	2	2	4	2	2	1	1	2

ЧАСТЬ В

Номер задания	В1	В2	В3	В4
	Саванны и редколесья	1-Б 2-В 3-А	ВАБ	А-2 Б-4 В-1