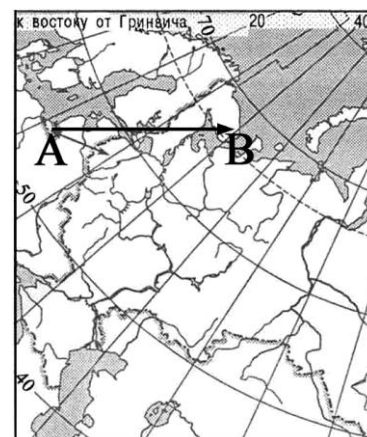


**Итоговое тестирование учащихся 8 класса.**



**A1**

Какому направлению соответствует направление А – В на карте Европейской части России?

- 1) север
- 2) северо-восток
- 3) юго-восток
- 4) восток

**A2**

Какие моря относятся к бассейну Тихого океана?

- 1) Чукотское и Берингово
- 2) Берингово и Охотское
- 3) Баренцево и Черное
- 4) Берингово и Каспийское

**A3**

Чернозёмные почвы образуются в

- 1) тайге
- 2) степях
- 3) полупустынях
- 4) тундре

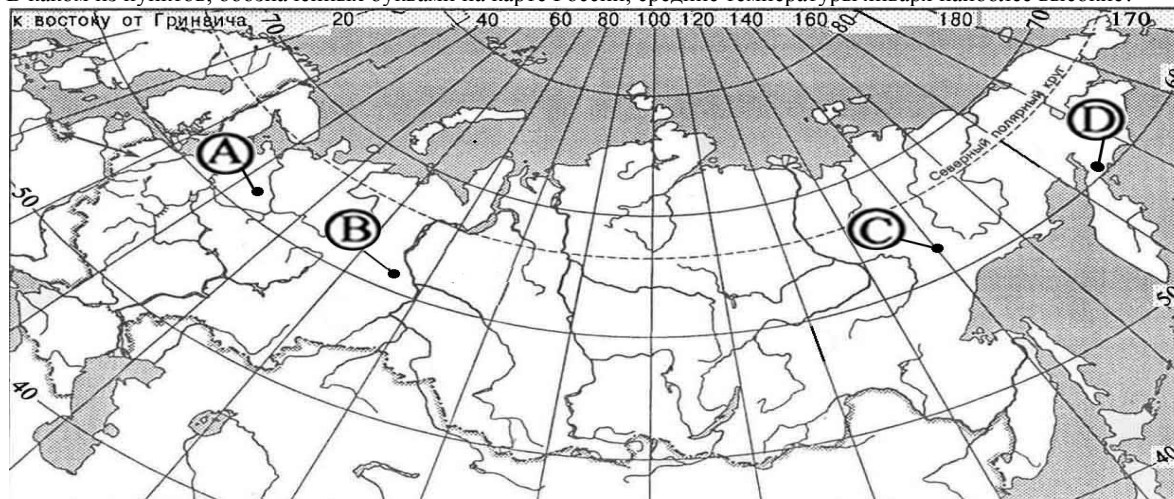
**A4**

Основателем науки «почвоведение» является:

- 1) А.И. Воейков
- 2) В.В. Докучаев
- 3) С.П. Крашенинников
- 4) М.В. Ломоносов

**A5**

В каком из пунктов, обозначенных буквами на карте России, средние температуры января наиболее высокие?



- 1) А
- 2) В
- 3) С
- 4) D

**A6**

В каком из перечисленных регионов России зимы наиболее теплые?

- 1) Калининградская область
- 2) Якутия
- 3) Астраханская область
- 4) Татарстан

**A7**

Неблагоприятное воздействие на природу оказывает:

- 1) проведение снегозадержания на полях
- 2) создание лесополос в степной зоне
- 3) террасирование склонов
- 4) строительство водохранилищ

**A8**

Прочитайте текст и ответьте на вопрос.

*Учащиеся нескольких школ, находящихся в разных городах России, обмениваются результатами наблюдений, которые проводятся ими на географических площадках. 21 марта в полдень по солнечному времени каждого из городов (во всех городах действует московское время) они определили высоту Солнца над горизонтом и зафиксировали температуру воздуха. Результаты их наблюдений приведены в следующей таблице.*

Пункт наблюдения	Координаты пункта наблюдения	Высота Солнца над горизонтом	Температура воздуха, °С	Время наблюдения, МСК
Санкт-Петербург	60° с.ш. 30° в.д.	30°	+4 °С	13 ч.
Москва	56° с.ш. 37° в.д.	34°	+1 °С	13 ч. 28 м.
Липецк	53° с.ш. 40° в.д.	37°	+6 °С	13 ч. 40 м
Астрахань	46° с.ш. 48° в.д.	44°	+8 °С	14 ч.

Какую из изученных на уроках географии закономерностей подтверждают собранные данные?

- 1) Континентальность климата увеличивается в направлении с северо-запада на юго-восток.
- 2) Температура воздуха изменяется в течение суток
- 3) Высота Солнца изменяется в зависимости от географической широты местности.
- 4) Высота Солнца изменяется в течение дня в зависимости от времени наблюдения.

**A9**

На какой из перечисленных территорий России наиболее вероятны землетрясения?

- 1) Кавказ
- 2) острова Новая Земля
- 3) Урал
- 4) полуостров Таймыр

**A10**

Что характерно для природы Северного Кавказа?

- 1) континентальный тип климата
- 2) минеральные источники
- 3) равномерное увлажнение территории
- 4) действующие вулканы

**A11**

Для какого типа умеренного климата характерны самые высокие летние температуры?

- 1) морского
- 2) континентального
- 3) умеренно континентального
- 4) муссонного

**A12**

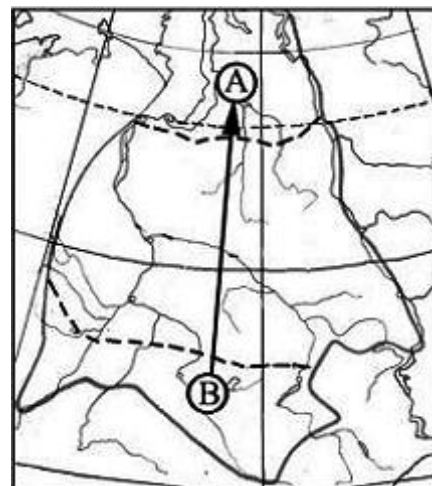
Какое утверждение о географическом положении России является верным?

- 1) На юго-западе Россия граничит с Арменией
- 2) Крайняя северная точка страны находится на полуострове Ямал.
- 3) Площадь территории страны превышает 20 млн кв. км.
- 4) Россия омывается морями трех океанов.

**A13**

В каком направлении переместится путешественник, совершив перелёт по маршруту В – А, показанному на карте?

- 1) в южном
- 2) в восточном
- 3) в северо-восточном
- 4) в северном



**A14** Общий уклон территории России:

- 1) к югу
- 2) к центру
- 3) к северу
- 4) к востоку

**A15** На древних участках земной коры – платформах, как правило располагаются:

- 1) горы
- 2) равнины
- 3) возвышенности
- 4) низменности

**A16** Примером неисчерпаемых возобновимых природных ресурсов служит

- 1) пресная вода
- 2) почва
- 3) железная руда
- 4) солнечная энергия

**A17** Внешние процессы, формирующие рельеф, это:

- 1) столкновение литосферных плит
- 2) деятельность ветра
- 3) движения земной коры
- 4) вулканизм

**A18** Крайняя восточная точка России:

- 1) мыс Дежнёва
- 2) мыс Флигели
- 3) мыс Челюскин
- 4) мыс Игольный

**A19** Самое глубокое озеро России:

- 1) Ладожское
- 2) Онежское
- 3) Байкал
- 4) Ханка

**A20** Самый большой полуостров России:

- 1) Кольский
- 2) Таймыр
- 3) Чукотский
- 4) Ямал

**A21**

Самый высокий действующий вулкан в России:

- 1) Ключевская Сопка
- 2) Казбек
- 3) Эльбрус
- 4) Белуха

**A22**

Большая часть территории России расположена в климатическом поясе:

- 1) арктическом
- 2) субарктическом
- 3) умеренном
- 4) тропическом

**A23**

Самые высокие температуры в России:

- 1) на Северном Кавказе
- 2) на Прикаспийской низменности
- 3) на Урале
- 4) на Кольском полуострове

**A24**

Равнинной рекой является:

- 1) Урал
- 2) Кура
- 3) Волга
- 4) Терек

**A25**

Место, где река берет начало называется:

- 1) исток
- 2) устье
- 3) приток
- 4) бассейн

**A26**

Высота горы Стрижамент:

- 1) 1400 метров
- 2) 567 метров
- 3) 831 метр
- 4) 756 метров

**A27**

Самые низкие горы России:

- 1) Урал
- 2) Саяны
- 3) Кавказ
- 4) Алтай

**A28**

Самое большое по площади озеро в России:

- 1) Каспийское
- 2) Ладожское
- 3) Ханка
- 4) Байкал

**A29**

Плодородие почвы зависит от наличия в ней:

- 1) воздуха
- 2) гумуса
- 3) влаги
- 4) минеральных солей

**A 30**

Высшей точкой горной системы Алтай является гора:

- 1) Ключевская Сопка
- 2) Народная
- 3) Белуха
- 4) Победа

**Часть 2**

Ответом к заданиям этой части (В1 – В6) является последовательность букв, число или слово. Впишите ответы в таблицу в виде последовательности букв.

**В1**

Установите соответствие между каждым из природных ресурсов и видом, к которому он относится.

## ПРИРОДНЫЕ РЕСУРСЫ

## ВИДЫ ПРИРОДНЫХ РЕСУРСОВ

- |    |                |    |                |
|----|----------------|----|----------------|
| 1) | энергия Солнца | А) | неисчерпаемые  |
| 2) | железные руды  | Б) | исчерпаемые    |
| 3) | каменный уголь | В) | возобновимые   |
| 4) | почвенные      |    | исчерпаемые    |
|    |                |    | невозобновимые |

Запишите в таблицу буквы, соответствующие выбранным ответам.

1	2	3	4

**В2**

Определите регион России по его краткому описанию.

Этот край имеет выход к двум морям, по земле граничит с одной из зарубежных стран. Большую часть территории занимает низменность, на юге расположены молодые высокие горы. Особенностью климата является непродолжительный холодный период года. Основное богатство края – агроклиматические и рекреационные ресурсы.

Ответ: \_\_\_\_\_ край.

**В3**

Установите соответствие между территорией Земли и исследователями и путешественниками, которые её исследовали.

## ТЕРРИТОРИЯ

## ПУТЕШЕСТВЕННИКИ

- |                         |  |
|-------------------------|--|
| 1) Камчатка             | А) В. Беринг                                     |
| 2) Командорские острова | Б) Крашенинников С.П.                            |
| 3) Центральная Азия     | В) Р. Амундсен и Р. Скотт                        |
|                         | Г) П.П. Семенов-Тянь-Шанский и Н.М. Пржевальский |

Запишите в таблицу буквы, соответствующие выбранным ответам.

1	2	3

**В4**

Сколько времени будет в Лондоне, когда в Москве 15 часов дня? Ответ запишите цифрами.

Ответ: \_\_\_\_\_ ч.

**В5**

Атмосферный вихрь с низким давлением в центре? Ответ запишите.

Ответ: \_\_\_\_\_ .

**В6**

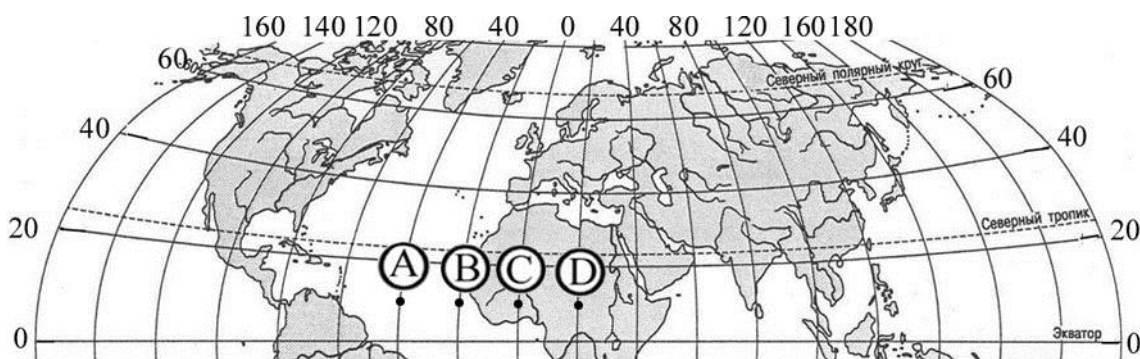
Какие воздушные массы содержат меньше всего влаги? Ответ запишите.

Ответ: \_\_\_\_\_ .

**Часть 3**

Для ответов на задания этой части (С1 – С2) используйте бланк ответов № 2. Запишите сначала номер задания (С1 и т.д.), а затем не только ответ на поставленный вопрос, но и весь ход ваших рассуждений. Ответы записывайте разборчиво.

**С1** В каком из обозначенных на карте Северного полушария пунктов Солнце будет находиться над горизонтом выше всего в 15 часов по времени Гринвичского меридиана? Свой ответ обоснуйте.



**С2** Почвы зоны степей обладают гораздо более мощным гумусовым горизонтом и высоким содержанием гумуса, чем почвы зоны тайги. Чем это объясняется? Укажите не менее двух причин.

*Инструкция по проверке и оценке работ учащихся по географии:*

**Часть 1**

№ задания	Ответ	№ задания	Ответ
A1	4	A17	2
A2	2	A18	1
A3	2	A19	3
A4	2	A20	2
A5	1	A21	1
A6	1	A22	3
A7	4	A23	2
A8	3	A24	3
A9	1	A25	1
A10	3	A26	3
A11	2	A27	1
A12	4	A28	1
A13	4	A29	2
A14	3	A30	3
A15	2		
A16	2		

**Часть 2**

B1	<b>АВВБ</b>
B2	<b>Краснодарский</b>
B3	<b>БАГ</b>
B4	<b>13 часов</b>
B5	<b>циклон</b>
B6	<b>континентальные</b>

**Ответ: С1.**

Элементы содержания верного ответа (допускаются иные формулировки ответа, не искажающие его смысла)	Баллы
1) в пункте А	
2) в этот момент на меридиане 45°з.д. – полдень	
3) пункт А расположен ближе всего к меридиану 45°з.д.	
<b>Указания к оцениванию</b>	
Ответ включает все три названных выше элемента	2
Ответ включает два (1-й и 2-й или 1-й и 3-й) из названных выше элементов	1
Ответ неправильный	0
<b>ИЛИ</b>	
ответ включает один (любой) из названных выше элементов	
<i>Максимальный балл</i>	2

C2

Почвы зоны степей обладают гораздо более мощным гумусовым горизонтом и высоким содержанием гумуса, чем почвы зоны тайги. Чем это объясняется? Укажите не менее двух причин.

**Ответ:**

Элементы содержания верного ответа (допускаются иные формулировки ответа, не искажающие его смысла)	Баллы
1) недостаточное увлажнение в зоне степей способствует накоплению гумуса	
<b>ИЛИ</b>	
избыточное увлажнение в зоне тайги приводит к вымыванию гумуса из почвы	
2) большее количество растительного опада в зоне степей	
<b>ИЛИ</b>	
разный состав растительного опада в зоне степей и в зоне тайги	
<b>Указания к оцениванию</b>	
Ответ включает оба названных выше элемента	2
Ответ включает один (любой) из названных выше элементов	1
Все вышеперечисленные элементы отсутствуют	0
<i>Максимальный балл</i>	2